

# LA GEOMETRIE (COURS 1 ERE ANNEE)

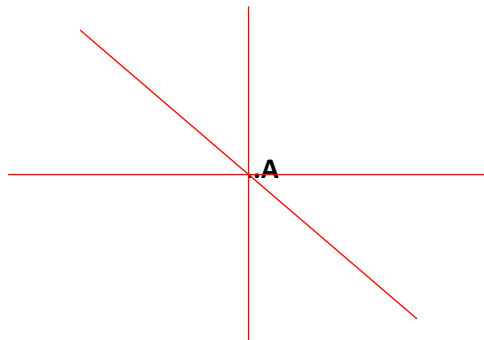
## I- Le Traçage des traits :

**Retenons :** Un segment est limité par deux points.

A. ————— . B

Les points A et B sont les extrémités du segment (**AB**).

**ACTIVITE 1 :** A l'aide de ma règle, je trace en rouge, trois lignes droites qui passent par le point A.



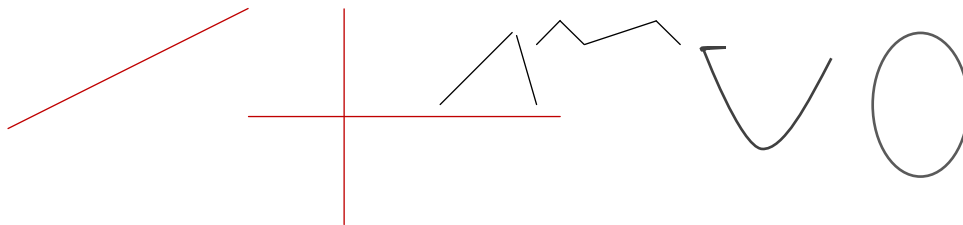
**EXERCICE :** Trace en bleu, une ligne droite qui passe par les points D et C.

D. ————— . C

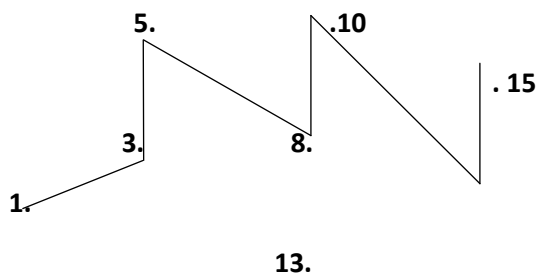
## II- Renforcement des éléments de géométrie :

**Retenons :** Je sais faire la différence entre une ligne droite et d'autres.

**ACTIVITE 1 :** Je repasse les lignes droites en rouge.



**ACTIVITE 2 :** Relie par un trait, les nombres du plus petit au plus grand.



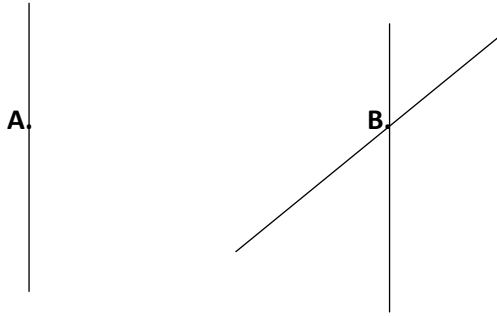
**Retenons :** Je peux me servir de traits pour ranger des nombres.

### III- La Ligne droite et le segment de droite :

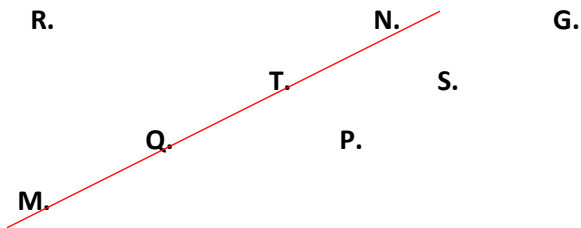
**Retenons :** Je trace toujours une ligne droite à l'aide de la règle.

**ACTIVITE 1 :** Voici des points **A** **B**. Trace avec la règle :

- Une ligne droite passant par le point **A** ;
- Deux lignes droites passants le point **B**.



**ACTIVITE 2 :** A l'aide de la règle, trouve les points alignés avec les points **M** et **N**.



**Retenons :** Un segment de droite est une droite limitée par deux points.

**EXEMPLE :** A ————— B

**EXERCICE :** Mets une croix (x) sur les segments de droite.

